



➔ Les ports



**Retracez le parcours du porte-conteneur :**

- en vert le tracé (selon vous quel trajet va-t-il emprunter?),
- en noir le nom des villes traversées par le navire,
- en rouge le nom des principaux points de passage empruntés (aidez-vous des docs de la séance 2) par le porte-conteneur pour arriver à destination,
- en bleu le nom des océans.

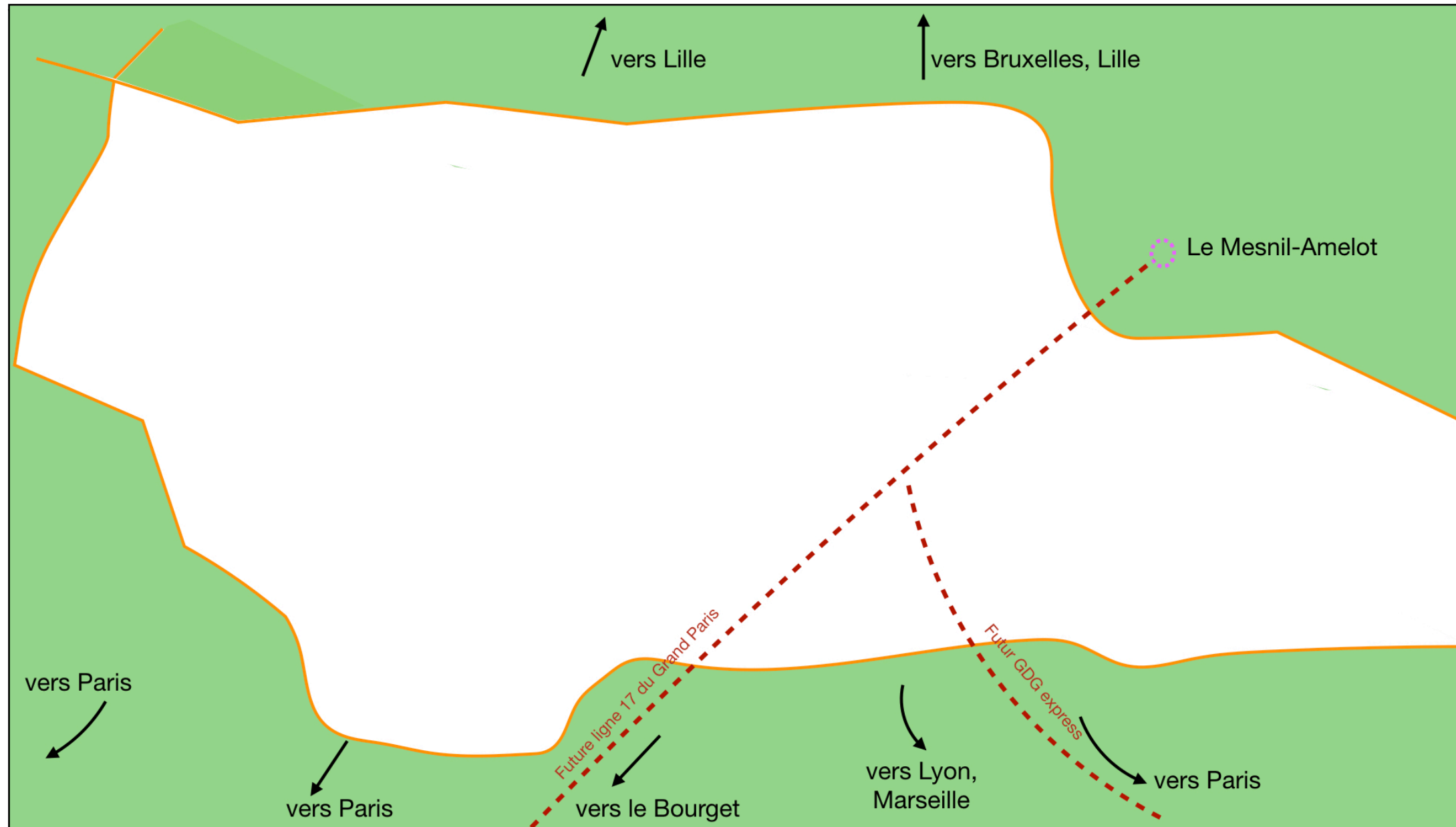


15 février 2019 : le Cosco Shipping Pisces, long de 400 mètres, entre dans le port du Pirée, en Grèce. Parti de Shanghai un mois plus tôt, il y restera 24 heures avant de rejoindre le port d'Anvers, en Belgique. Ce porte-conteneur se veut écologique, notamment par ses systèmes d'alimentation à quai et de gestion de l'eau de ballast (qui sert à stabiliser le navire).

➔ **Les aéroports**

**Document 8 : L'aéroport Roissy-Charles de Gaulle: l'anticipation comme slogan. (Vidéo)**

Après avoir visionné la vidéo, vous complétez le croquis suivant en vous aidant des éléments mis à votre disposition.



**Éléments à replacer sur le croquis en couleur**

**Texte à replacer sur le croquis :**

- Zone de fret
- Zone de fret
- GDG 1
- A, B, C, D, E, G
- Piste 1, Piste 2, Piste 3, Piste 4
- Terminal 2, Terminal 3, Terminal 4
- RER B
- Autoroute A1
- TGV
- GARE

- À l'aide de la vidéo, vous préciserez l'histoire de l'aéroport Charles e Gaulle de ses débuts à aujourd'hui. Vous préciserez également les enjeux auxquels est confronté l'aéroport.